

Van Gölü

Van ve Bitlis illeri arasından bulunan Van Gölü; gidenin bir daha gitmek istediği, göller arasında güzellik yarışması düzenlense kesinlikle birinci olacak bir göldür.

Mavi ve yeşilin bir arada bulunduğu Van Gölü, yanardağ patlamaları ile oluşmuş bir göldür. Bir nevi kısmi iç deniz olan bu göl, görenleri hem güzelliğiyle hem de büyüklüğüyle hayrete düşürür. Sodalı göller arasında dünyanın en büyük gölü olan Van Gölü, muhteşem bir tarihe de ev sahipliği yapar.

Haydi, lafı daha fazla uzatmadan Van hakkında daha önce hiç duymadığınız ilginç bilgilere geçelim. İşte Van Gölü hakkında ilginç bilgiler:

- *Van Gölü, Dünya'nın en büyük sodalı gölüdür.
- *Van Gölü, Türkiye'nin en büyük gölüdür.
- *Van Gölü, Dünya'nın en derin 15. gölüdür.
- *Van Gölü, Nemrut Volkanik Dağının patlaması sonucunda oluşmuştur.
- *Van Gölü, denizden bin altı yüz kırk altı metre yüksektir.
- *Van Gölü, ismini Urartu Krallığı'nın başkenti olan Van'dan almaktadır.
- *Van Gölü'nün içinde 3 bin yıllık bir Urartu Kalesi bulunmaktadır...

1 ve 2. soruyu metne göre cevaplayınız.

1. Van Gölü nasıl oluşmuştur?

- a) Nemrut Volkanik Dağının patlaması sonucunda
- b) Ağrı Dağının patlaması sonucunda
- c) Urartu kalesinin yıkılması sonucunda

2. Van Gölü hangi illerimiz arasında bulunur?

- a) Van-Bitlis
- b) Van-Bingöl
- c) Van-Hakkari

3. Aşağıdaki tarihlerden hangisinin yazımında yanlışlık yapılmıştır?

- a) 15.01.2024
- b) 15/01/2024
- c) 15.Ocak.2024

4. Aşağıdaki cümlelerden hangisinin sonundaki noktalama işareti doğru kullanılmıştır?

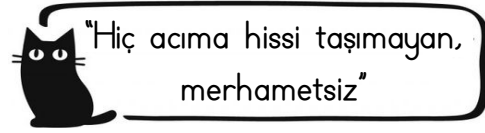
- a) Tüh, yazık olmuş.
- b) Siz Yozgatlı mısınız?
- c) Ayşe, bugün okula gelmedi!



Verilen sözcükler arasındaki anlam ilişkisi aşağıdakilerden hangisinde vardır?

5.

- a) Acı-Tatlı
- b) Taze-Bayat
- c) Sonbahar-Güz



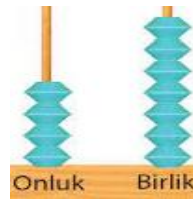
6.

Yukarıda açıklaması verilen deyim hangisidir?

- a) Burnu büyük
- b) Gözden düşmek
- c) Taş kalpli

7. Aşağıdaki cümlelerin hangisinde "dal" sözcüğü farklı bir anlamda kullanılmıştır?

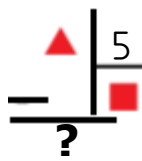
- a) Ördek suya daldı.
- b) Fırtınadan sonra ağacın dalları kırılmış.
- c) Dalgıçlar denizin dibine daldılar.



8.

- a) 3
- b) 2
- c) 1

"Yandaki modellenen sayının 4'e bölümünden kalan kaçtır?"





9.

- a) 5
- b) 4
- c) 3


"Yandaki bölme işleminde "?"(kalan) yerine aşağıdakilerden hangisi gelemez?"

10. Bir bölme işleminde bölen 7, bölüm 12, kalan 3 olduğuna göre **bölünen** sayı kaçtır?

- a)  87 b)  84 c)  82

11) Aşağıdaki bölme işlemlerinden hangisinde kalan diğerlerinden daha büyüktür?

- a) $\begin{array}{r} 36 \\ \underline{\quad} 4 \end{array}$ b) $\begin{array}{r} 56 \\ \underline{\quad} 6 \end{array}$ c) $\begin{array}{r} 66 \\ \underline{\quad} 7 \end{array}$

 $63 \div 7 = A$
 $75 \div 5 = B$

12. Yukarıdaki bilgilere göre $B - A$ işleminin sonucu kaçtır?

- a) 6 b) 8 c) 10

13) $\begin{array}{r} \square \\ \underline{\quad} 9 \\ 6 \end{array}$ Yandaki bölme işleminde \square yerine hangi sayı yazılmalıdır?

- a) 23 b) 72 c) 78

14. Yukarıda verilen bölme işleminde kalan hangisidir?

- a) 4 b) 3 c) 2

15. Portakal ve narı hangi mevsimde tüketmeliyiz?

- a) İlkbahar b) Yaz c) Kış

16. Mevsiminde yetişen meyve ve sebzeleri neden yememiz gerekir?

- a) Doğal ve sağlıklı olduğu için.
b) Seralarda üretildiği için.
c) Daha büyük olduğu için.

17. Aşağıda verilen sağlık sorunu ve tanımı eşleştirmelerinden hangisi **yanlıştır**?

a) Diyabet	→	Şekerin, kanda birikerek kan şekerinin artması.
b) Çölyak	→	Çölde yetişen sebze ve meyvelerin sebep olduğu hastalık.
c) Obezite	→	Aşırı kiloya bağlı olarak gelişen bir sağlık sorunu.

18. "Gözlerimiz ne kadar iyi görürse görsün karanlık ortamlarda varlıkları iyi göremeyiz." Geceleri ya da karanlık ortamlarda neden farklı ışık kaynakları kullanırsınız?

- a) Işıksız ortamlar yeterince ısınmaz.
b) Aydınlatılmış ortamlarda ışık kullanırsınız.
c) Görebilmek için ışık gereklidir.

19. Aşağıdakilerden hangisi **doğal ışık** kaynağı değildir?

- a) Güneş b) Ay c) Yıldırım

20. Aşağıdaki ortamların hangisinde cisimler net görülür?

- a) Loş ışıklı yerlerde
b) Işığın yeterli olduğu yerlerde
c) Işığın çok fazla olduğu yerlerde

CEVAPLAR

Adı Soyadı:

- | | | | | | | | |
|----|---|---|---|----|---|---|---|
| 1 | A | B | C | 11 | A | B | C |
| 2 | A | B | C | 12 | A | B | C |
| 3 | A | B | C | 13 | A | B | C |
| 4 | A | B | C | 14 | A | B | C |
| 5 | A | B | C | 15 | A | B | C |
| 6 | A | B | C | 16 | A | B | C |
| 7 | A | B | C | 17 | A | B | C |
| 8 | A | B | C | 18 | A | B | C |
| 9 | A | B | C | 19 | A | B | C |
| 10 | A | B | C | 20 | A | B | C |

CEVAPLAR

Adı Soyadı:

- | | | | | | | | |
|----|---|---|---|----|---|---|---|
| 1 | A | B | C | 11 | A | B | C |
| 2 | A | B | C | 12 | A | B | C |
| 3 | A | B | C | 13 | A | B | C |
| 4 | A | B | C | 14 | A | B | C |
| 5 | A | B | C | 15 | A | B | C |
| 6 | A | B | C | 16 | A | B | C |
| 7 | A | B | C | 17 | A | B | C |
| 8 | A | B | C | 18 | A | B | C |
| 9 | A | B | C | 19 | A | B | C |
| 10 | A | B | C | 20 | A | B | C |

CEVAPLAR

Adı Soyadı:

- | | | | | | | | |
|----|---|---|---|----|---|---|---|
| 1 | A | B | C | 11 | A | B | C |
| 2 | A | B | C | 12 | A | B | C |
| 3 | A | B | C | 13 | A | B | C |
| 4 | A | B | C | 14 | A | B | C |
| 5 | A | B | C | 15 | A | B | C |
| 6 | A | B | C | 16 | A | B | C |
| 7 | A | B | C | 17 | A | B | C |
| 8 | A | B | C | 18 | A | B | C |
| 9 | A | B | C | 19 | A | B | C |
| 10 | A | B | C | 20 | A | B | C |

1.	A	6.	C	11.	C	16.	A
2.	A	7.	B	12.	A	17.	B
3.	C	8.	A	13.	C	18.	C
4.	B	9.	A	14.	B	19.	B
5.	C	10.	A	15.	C	20.	B